

Тестовые задания (02.12.2023)

городского ресурсного центра

для подготовки к республиканской олимпиаде по обслуживающему труду
для учащихся VIII-XI классов в 2023/2024 учебном году

«Уход за изделиями из текстильных материалов.

Символы по уходу за швейными изделиями. ВТО.»

1. Символ Δ по уходу за одеждой означает, что изделие можно подвергать ...

- а) химчистке; б) отбеливанию; в) машинной стирке.

2. К операциям влажно-тепловой обработки относят:

- а) отпаривание, декорирование, заутюживание;
б) приутюживание, пришивание, заутюживание;
в) декатирование, отутюживание, проутюживание.

3. К окончательной влажно-тепловой обработке изделия относят:

- а) приутюживание; б) разутюживание; в) отутюживание.

4. Влажно-тепловая обработка материала для предотвращения последующей усадки называется _____

5. Все символы по уходу за изделиями из текстильных материалов делят на группы:

- а) химическая чистка, стирка, влажно-тепловая обработка;
б) химическая чистка, отбеливание, стирка, глажение, сушка;
в) чистка, стирка, глажение, отделка, сушка.

6. Работы, выполненные с помощью влаги, тепла и давления называют _____

7. Восстановите последовательность этапов ухода за текстильными изделиями:

- а) стирка или химчистка;
б) хранение;
в) определение волокнистого состава материала;
г) глажение
д) сортировка одежды в зависимости от волокнистого состава и степени загрязнения;
е) сушка.

_____, _____, _____, _____, _____, _____.

8. Расшифруйте символы по уходу за текстильными изделиями:



а



б



в



г



д

а) _____;

- б) _____ ;
 в) _____ ;
 г) _____ ;
 д) _____ .

9. Зарисуйте значки по уходу, которые соответствуют описанию в таблице.

1. Изделие нельзя подвергать отбеливанию	
2. Утюжка не более $t150^{\circ}\text{C}$	
3. Ручная стирка	
4. Сушка в вертикальном положении	

10. Небольшой отрез ткани (хлопчатобумажной или льняной), предохраняющий поверхность обрабатываемой детали от дефектов влажно-тепловой обработки это _____

11. Уменьшение толщины шва или края изделия с помощью утюга называется _____.

12. В каком городе Республики Беларусь в 2016 году открылся Музей утюга:

- а) Гомель ; б) Минск ; в) Гродно.

13. Уход за текстильными изделиями включает следующие стадии:

- а) предварительная подготовка, стирка, дополнительная обработка, сушка, ВТО;
 б) предварительная подготовка, дополнительная обработка, отбеливание, стирка, сушка, ВТО;
 в) предварительная подготовка, стирка, сушка, ВТО.

14. Выполните соотношение температуру воды для стирки и изделия из хлопковых волокон:

1) 60°C	а) тонкие цветные хлопчатобумажные ткани
2) не более 40°C	б) белые хлопчатобумажные изделия
3) 95°C	в) плотные цветные хлопчатобумажные ткани

1. _____, 2. _____, 3. _____.

15. Моющие средства, применяемые для стирки изделий подразделяются на:

- а) синтетические и искусственные;
- б) синтетические и жировые.

16. С какой стороны утюжат вышитые изделия?

17. Восстановите алгоритм утюжки блузки из хлопчатобумажной ткани:

- а) кокетка; б) воротник; в) манжеты; г) перед; д) рукава; е) спинка.

18. Дополнительная обработка специальными средствами для придания текстильным изделиям определенных свойств (несминаемости, жесткости и др.) называется: _____

19. Соотнесите параметры влажно-тепловой обработки тканей из химических волокон:

1. ацетат	а) 140°C
2. лавсан	б) 120°C
3. нитрон	в) 115°C

1. ____ 2. ____ 3. ____.

20. Шерстяные и шелковые изделия стирают при температуре моющего раствора:

- а) не выше 35°C;
- б) не выше 40°C;
- в) не выше 60°C.

21. Соотнесите символы по уходу и температурный режим:

1. 	а) Средняя температура (150°C)
2. 	б) Высокая температура (200°C)
3. 	в) Низкая температура (110°C)





1. ____; 2. ____; 3. ____.

22. Зарисуйте символ по уходу за текстильными изделиями, обозначающий химическую чистку с щадящим режимом.

23. Обработка тканей для снижения или полного снятия электризации называется _____.

24. Перечислите способы чистки одежды.

25. Соотнесите:

1.		а) глажение
2.		б) стирка
3.		в) сушка в барабанной сушилке
4.		г) профессиональная обработка (чистка органическими растворителями и аквачистка)

1. _____; 2. _____; 3. _____; 4. _____

26. После проведения праздника хозяйка решила постирать аппретированную хлопчатобумажную скатерть. После стирки отжала, вывесила сушиться, затем поутюжила (положение терморегулятора поставила в режим «хлопок»). Найдите допущенные хозяйкой ошибки.

27. Подберите правильный уход к изделию и зарисуйте символы по уходу за данным изделием: блуза из тонкой белой льняной ткани, с вышивкой по воротнику и манжетам.

28. Подберите условия сушки для плечевого текстильного изделия из шерсти.

29. Опишите условия влажно-тепловой обработки брюк из полушерстяной ткани.

30. Девочке необходимо отутюжить после стирки юбку с односторонними складками. Составьте последовательность влажно-тепловой обработки юбки.