

## ТЕСТОВЫЕ ЗАДАНИЯ (17.02.2024)






городского ресурсного центра для подготовки учащихся к городской олимпиаде по учебному предмету «Трудовое обучение» (обслуживающий труд) 2023/2024 учебный год для учащихся 6-8 класс

### ОСНОВЫ ВЯЗАНИЯ КРЮЧКОМ

1. Выбор пряжи при вязании зависит:

- а) от толщины пряжи и цвета;
- б) инструмента и цвета пряжи;
- в) вида изделия, его назначения.

2. Соотнесите условные обозначения и его описание:

X	полустолбик
	пышный столбик
	скрещенные столбики
	столбик без накида
	рельефный столбик
	столбик на двух ножках

3. Выберите из перечисленного свойства при выборе пряжи для вязания:


номер пряжи, крутка, цвет, упругость, прочность, производитель, ровность, прочность окраски, рельефность.

4. Для получения рыхлой вязки используют:

- а) толстый крючок и тонкие нитки;
- б) тонкий крючок и тонкие нитки;
- в) толстый крючок и толстые нитки;
- г) тонкий крючок и толстые нитки.

5. Как называется основа первого ряда при вязании крючком?


\_\_\_\_\_



6. Для получения плотной, ровной поверхности при вязании крючком применяется:


- а) столбик с накидом;
- б) столбик без накида;
- в) соединительный столбик.

7. Подпишите название элементов строения верхней петли:



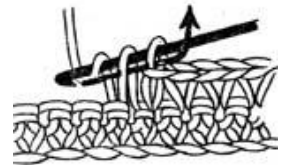
8. Вязание крючком какого элемента представлено на рисунке?

- а) столбика без накида;
- б) воздушной петли;
- в) цепочки из воздушных петель;
- г) столбика с одним накидом.



9. Вязание крючком какого элемента представлено на рисунке?

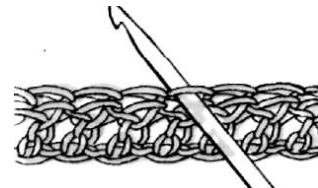
- а) столбика без накида;
- б) столбика с двумя накидами;
- в) цепочки из воздушных петель;
- г) столбика с одним накидом.



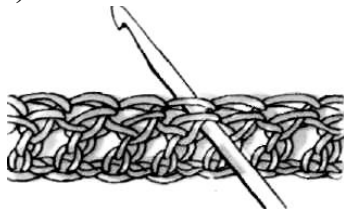
10. Напишите способы вытягивания петель:



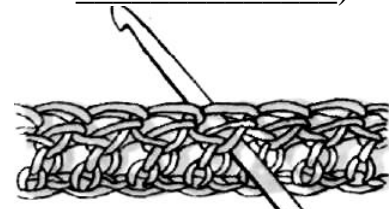
а) \_\_\_\_\_



б) \_\_\_\_\_



в) \_\_\_\_\_



г) \_\_\_\_\_

11. Чтобы при вязании узорных полотен, особенно со смещенными мотивами, боковые края (кромки) работы были ровными, и количество столбиков в рядах оставалось первоначальным, нужно в начале и в конце каждого ряда вывязывать дополнительные:

- а) кромочные петли;
- б) кромочные столбики;
- в) воздушные петли;
- г) петли поворота.

12. Не существует в вязании крючком самостоятельного элемента:


- а) пико;
- б) накид;
- в) цепочка;
- г) полустолбик.

13. Чем отличается вязание круга и квадрата?

- а) Ничем не отличается;
- б) при вязании круга делаются прибавки, а при вязании квадрата нет;
- в) при вязании круга делаются прибавки по окружности, а у квадрата по углам.

14. На рисунке представлено вывязывание:

- а) столбика без накида;
- б) столбика с двумя накидами;
- в) столбика с тремя накидами;
- г) соединительного столбика.



15. При вязании крючком полотна столбиками с одним накидом для подъема ряда вывязывают:

- а) три столбика;
- б) три воздушных петли;
- в) три накида.

16. На рисунке показан способ провязывания:

- а) пико;
- б) «ракушки»;
- в) пышного столбика;
- г) столбика с 3 –мя накидами.



17. Какую форму принимает вязание, если петли прибавлять по центру ряда?

- а) Конуса;
- б) квадрата;
- в) круга;
- г) треугольника.

18. При вязании крючком в четыре приема провязывают столбик:

- а) с 1 накидом;
- б) с 2 накидами;
- в) с 3 накидами;
- г) пышный.

19. На рисунке показан способ провязывания:

- а) пико;
- б) цепочки;
- в) полустолбика;
- г) столбика с накидом.




20. Кружево, связанное отдельно, как в продольном, так и в поперечном направлении, и пришитое к краю изделия ручным или машинным способом – это:

- а) краевое кружево;
- б) мерное кружево;
- в) прошва;
- г) кайма.

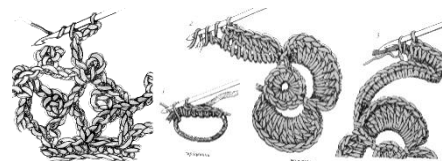
21. На схеме изображено вязание:

- а) ажурное;
- б) филейное;
- в) тунисское;
- г) английское;
- д) ирландское.



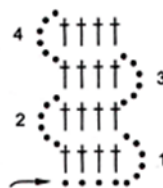
22. Дополните предложение. Традиционное народное вязание крючком, состоящее из незаполненных и заполненных ячеек, называется:

23. Плоские и выпуклые цветочные узоры, выполненные крючком по отдельности и соединенные между собой сеткой, связанной крючком.



24. Определите вид кружева, представленного на схеме:

- а) брюггское;
- б) челночное;
- в) филейное; г) ирландское.



Определите количество воздушных петель начальной цепочки для вязания полочки шириной 20см, если в 10см контрольного образца 15 столбиков.

Напишите название

