

## ТЕСТОВЫЕ ЗАДАНИЯ

для проведения дистанционной олимпиады (19.10.2024)  
городского ресурсного центра по подготовке учащихся к республиканской  
олимпиаде по трудовому обучению (обслуживающий труд)

Уважаемая участница олимпиады!

Инструкция по выполнению отдельных тестовых заданий:

- в вопросах, содержащих варианты ответов, выберите один, на ваш взгляд, правильный ответ и обведите его;
  - в вопросе 18 выберите и обведите два правильных ответа;
  - в заданиях 1,5,19,22,24,25 впишите шариковой ручкой правильный ответ, в заданиях 7,14 - правильные ответы;
  - в задании 8,10,23 установите соответствие, впишите ответ в строку в конце данного вопроса в виде сочетаний цифр и букв;
  - в задании 21 установите правильную последовательность;
- Творческие задания оцениваются в 3 балла. Всего - 40 баллов

### 1. Вставьте пропущенное словосочетание:

\_\_\_\_\_ - количественная и качественная характеристика питания, которая включает кратность, время приема пищи, набор блюд и распределение их по отдельным приемам.

### 2. Определите название приспособления для кухни, изображенное на рисунке.

- А) Нож для удаления косточек из плодов;
- Б) Топпер для яиц;
- В) Ножницы для разделки костей курицы;
- Г) Измельчитель для овощей;
- Д) Чесночница.



### 3. К заправочным супам относятся:

- а) щи, борщ, рассольник, супы с крупами, бобовыми, макаронными изделиями и овощные супы;
- б) грибной отвар, мясокостный бульон, куриный бульон, рыбный бульон;
- в) суп – пюре из картофеля, суп – пюре из моркови, суп – пюре из кур, суп-пюре из цветной капусты;
- г) щи, борщ, солянка, свекольник, суп с фрикадельками, суп гороховый;
- д) суп харчо, шурпа, свекольник, рассольник, фасолевый суп.

### 4. Специальная обработка мяса – шпигование выполняется:

- а) для повышения жирности и сочности;      в) для придания мягкости;
- б) для сохранения сочности мяса;              г) для получения порционных кусков;
- д) для улучшения вкуса и аромата блюда.

5. Назовите белорусское национальное блюдо из муки, для которого жарили тонкие блинчики и запекали их в горшочке, поливая сметаной

---

6. На этом виде приема гостей основным столовым прибором является вилка. Назовите вид приема гостей.

- А) Чайный или кофейный стол;      В) Фуршет;  
 Б) Коктейль;                      Г) Молодежная вечеринка;                      Д) Барбекю.

7. Дополните определение.

\_\_\_\_\_ - сладкая хрустящая кондитерская крошка, которой украшают изделия из теста (пироги, булочки). Готовят из \_\_\_\_\_, \_\_\_\_\_ и муки в пропорции \_\_: \_\_: \_\_.

8. Соотнесите название сладкого блюда и его приготовление

Название блюда	Приготовление
1. Кисель	А. готовят из смеси молока, яиц, плодового пюре и ароматических веществ, в которые добавляют взбитые белки.
2. Желе	Б. готовят из свежих, сушеных плодов, соков, сиропов, варенья, джема, молока с добавлением крахмала.
3. Компот	В. Готовят из плодового пюре. Пюре соединяют с сахаром, яичным белком, взбивают на льду, пока масса не увеличиться. Затем вливают растворенный желатин, размешивают и охлаждают.
4. Суфле	Г. Готовят из свежих, консервированных, сушеных, замороженных плодов. Иногда добавляют лимонную кислоту.
5. Самбук	Д. готовят из соков, отваров, молока и др. В горячий сироп добавляют лимонный сок или лимонную кислоту, разведенный желатин.

1-\_\_\_\_, 2-\_\_\_\_, 3-\_\_\_\_, 4-\_\_\_\_, 5-\_\_\_\_\_.

9. К лубяным волокнам относятся растения ...

- А) лен, джут, койр, хлопчатник;                      В) кенаф, хлопчатник, агава сизалевая;  
 Б) джут, кенаф, агава сизалевая;                      Г) лен, джут, рами, кенаф;  
 Д) агава сизалевая, джут, хлопчатник.

10. Установите соответствие между основными свойствами тканей

1. Геометрические свойства	А) драпируемость	Д) сминаемость
2. Механические свойства	Б) гигроскопичность	Е) плотность
3. Физические свойства	В) осыпаемость	Ж) растяжимость
4. Технологические свойства	Г) электризуемость	З) скольжение

1 \_\_\_\_\_ 2 \_\_\_\_\_ 3 \_\_\_\_\_ 4 \_\_\_\_\_

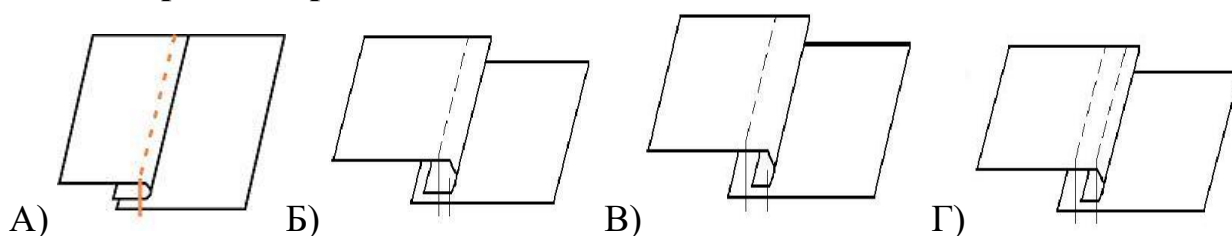
**11. Однородные ткани по волокнистому составу:**

- а) ткани, у которых основа и уток состоят из смеси различных волокон;
- б) ткани, состоящие из нитей различного волокнистого состава;
- в) ткани, состоящие из волокон одного вида или с примесью не более 10% других видов волокон;
- г) ткани, у которых одна система нитей однородная, а другая смешанная;
- д) ткани, состоящие из чередующихся нитей, различных по волокнистому составу.

**12. Отделочный материал в виде плетеного шнура с двумя основами, поэтому посередине шнура получают углубление ...**

- А) корсажная лента;                      Б) шнур «восьмерка»;                      В) сутаж;
- Г) отделочная лента;                      Д) тесьма «кант»;                              Е) аксельбант.

**13. Укажите рисунок, на котором правильное изображение настрочного шва с закрытым срезом.**



**14. Вставьте пропущенные приставки в термины швейных работ:**

- а) кулиску на деталь пакетницы \_\_\_\_\_ строчить;
- б) край обложки для блокнота после обтачивания \_\_\_\_\_ строчить;
- в) срезы детали для предохранения от осыпания \_\_\_\_\_ метать;
- г) рукав в пройму \_\_\_\_\_ метать;
- д) верхний срез мешочка \_\_\_\_\_ метать.

**15. Приспособление малой механизации, которое помогает выполнять двойную подгибку и обеспечивает прохождение строчки у самого сгиба ткани – это...**

- А) лапка-рубильник;                      В) лапка с направляющей линейкой;
- Б) лапка-запошиватель;                      Г) лапка - сборочник;
- Д) лапка для пришивания шнура.

**16. Оптимальная длина стежка для декоративной строчки при стежке прихватки:**

- а) 2-2,5 мм;    б) 2,5- 3 мм;    в) 3-3,5 мм;    г) 3,5-4 мм;    д) не имеет значения.

**17. Застежку на пуговицы часто используют в качестве декоративного оформления диванной подушки. Для выполнения застежки на пуговицы по краям деталей обрабатывают планки. Ширина планки в готовом виде...**

- А) 1,5 см;    Б) 2 см;    В) 3 см;    Г) 4 см;    Д) 5 см.

**18. Выберите все верные ответы. Чертеж деталей диванной подушки строят в случае:**

- А) если на задней детали предусмотрена застежка, передняя деталь состоит из двух и более деталей или имеет сложную форму;
- Б) если необходимо изменить конфигурацию углов или срезов;
- В) если имеется дополнительная деталь (клапан) предназначенная для фиксации подушки внутри;
- Г) если на задней детали предусмотрена застежка на петли и пуговицы, контактную ленту или тесьму молнию;
- Д) если подушка имеет небольшие габаритные размеры.

**19. Полная реконструкция швейного изделия по конструкции, декору, используемым текстильным материалам, технологии изготовления, не допускающей использования современного швейного оборудования присуща стилю \_\_\_\_\_**

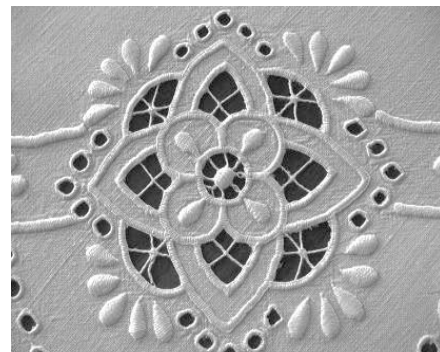

**20. При вязании спицами полотна кромочные петли:**

- а) входят в счет петель узора и учитываются при расчете плотности;
- б) не входят в счет петель узора и не учитываются при расчете плотности;
- в) входят в счет петель узора, но не учитываются при расчете плотности;
- г) входят в счет петель при расчете раппорта вязания.

**21. Установите последовательность действий при расчете количества петель для вязания:**

- а) снять измерения образца;
  - б) умножить значение плотности вязания на нужную мерку;
  - в) выполнить влажно-тепловую обработку образца;
  - г) связать образец;
  - д) снять необходимую мерку;
  - е) рассчитать плотность вязания.
- \_\_\_\_\_

**22. На фото представлен вид рукоделия, который возник в Эпоху Возрождения и являлся привилегией аристократии. Назовите данный вид рукоделия \_\_\_\_\_**



**23. В названии и определении цветников соотнесите буквы и цифры:**

1. Клумба      2. Рабатка      3. Миксбордер      4. Бордюры      5. Партер

А. цветник в виде длинной ленты с затейливым узором из различных цветов, который размещают вдоль дорожек, беседок или площадок;

Б. цветник в виде узкой полосы низкорослых растений, окаймляющей газон, дорожку;

В. особая фигурная грядка, на которой выращивают различные цветочно-декоративные растения;

Г. большой цветник в виде широкой ровной или изогнутой полосы;

Д. парадный низкорослый декоративный цветник у входа в парк, сквер, здание.

1-\_\_\_\_\_, 2-\_\_\_\_\_, 3-\_\_\_\_\_, 4-\_\_\_\_\_, 5-\_\_\_\_\_

**24. Вставьте пропущенное слово.** В далеком прошлом этот праздник был посвящен главному божееству наших предков – Солнцу, которое давало жизнь людям и всей окружающей природе. \_\_\_\_\_ - этот праздник связан с днём зимнего солнцестояния, началом нового солнечного, а значит, и аграрного года.

**25. Документ, удостоверяющий покупку товара при отсутствии кассовых аппаратов,** в котором указываются стоимость товара, дата его приобретения и информация о продавце это \_\_\_\_\_ .

## ТВОРЧЕСКИЕ ЗАДАЧИ

### 1. Отгадайте загадку.

«Кругла, рассыпчата, бела  
На стол она с полей пришла  
Ты посоли её немножко  
Ведь правда вкусная \_\_\_\_\_»

**Назовите не менее 3 блюд, в рецепт которых входит этот пищевой продукт.**

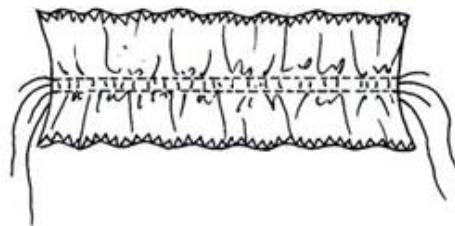
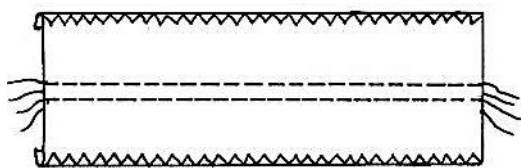
Перечислите по порядку первичную обработку (с рекомендациями) продукта.

**2. Рассчитайте** количество ткани для изготовления гардины со сборкой или складками с учетом ее ширины и припусков на обработку: ширина ткани составляет 150 см., длина изделия - 255 см, длина карниза - 150 см. Расчет запишите:

$150 \times K = 150 \times 2 - 300$      $300 : 150 = 2$  полотна     $255 + 4 + 1 = 260$  см     $260 \times 2 = 520$  см

**3. Перед вами отделочная деталь швейных изделий, ее название \_\_\_\_\_**

Запишите три рекомендации для качественного выполнения сборки.



- 1.
- 2.
- 3.

**4. Для декорирования интерьера детской комнаты необходимо изготовить диванную подушку-валик из плотной хлопчатобумажной ткани. Предложите два варианта конструктивных решений с элементами декора. Дайте технический рисунок каждой модели.**

**5. В Республике Беларусь популярны календарные и религиозные праздники, у них разное значение и всевозможные поводы. Определите название данного праздника по предложенному изображению, который празднуют в нашей стране. Какие особенности его проведения вам знакомы?**

